

**1. Задача 1**

Какой из перечисленных памятников не был составлен в эпоху Нара?

1	<input type="radio"/>	Кодзики
2	<input checked="" type="radio"/>	Энгисики
3	<input type="radio"/>	Манъёсю
4	<input type="radio"/>	Нихон сёки

**2. Задача 2**

К числу характеристик заливного рисоводства как хозяйственного комплекса не относится:

1	<input checked="" type="radio"/>	высокая потребность в удобрениях
2	<input type="radio"/>	высокая урожайность
3	<input type="radio"/>	сложность ирригационной системы
4	<input type="radio"/>	большое количество мелких трудовых операций

**3. Задача 3**

Назовите крупнейший остров Южной Кореи?

1	<input type="radio"/>	Канхвадо
2	<input type="radio"/>	Уллындо
3	<input checked="" type="radio"/>	Чеджудо
4	<input type="radio"/>	Токдо

**4. Задача 4**

Прочитайте отрывок из мифа об основании государства. Об основании какого государства повествует данный отрывок?

*«У Кымва было еще семеро сыновей, которые испытывали зависть к Чумону и даже боялись его. Они всячески упрашивали отца избавиться от Чумона. Кымва не хотел расставаться с ним. Тогда сыновья и придворные сановники задумали убить Чумона. Об этом узнала мать — Юхва и тайно известила сына. Чумон бежал с тремя друзьями. Погоня не смогла догнать беглецов. Чумон кормил лошадей так, что хорошие лошади выглядели хилыми (они то и достались Чумону), а плохие — упитанными (на них ездил ван и его приближенные).»*

1	<input type="radio"/>	Древний Чосон
2	<input type="radio"/>	Пэкче
3	<input type="radio"/>	Силла
4	<input checked="" type="radio"/>	Когурё

**5. Задача 5**

В «Исторических записках» Сыма Цяня сообщается, что, когда Цинь Ши-хуан объединил Китай, он приказал переименовать народ в «черноголовых». Почему?

1	<input type="radio"/>	из-за чёрного цвета волос
2	<input type="radio"/>	из-за чёрного цвета клейма, которое ставилось на лбу жителям покорённых царств
3	<input checked="" type="radio"/>	из-за необходимости носить чёрный тюрбан
4	<input type="radio"/>	из-за смуглого цвета кожи покорённых народов Восточного и Южного Китая

**6. Задача 6**

Двумя важнейшими родами войск в Древнем Китае были:

1	<input type="radio"/>	пехота и кавалерия
2	<input type="radio"/>	пехота и лучники
3	<input type="radio"/>	наземные войска и речной флот
4	<input checked="" type="radio"/>	пехота и колесницы

**7. Задача 7**

Чем прославился Аменхотеп IV, или Эхнатон?

1	<input checked="" type="radio"/>	Религиозной реформой страны
2	<input type="radio"/>	Самыми значимыми завоеваниями в истории Египта
3	<input type="radio"/>	Развитием торговых отношений с Шумером
4	<input type="radio"/>	Отправкой финикийской экспедиции вокруг Африки

**8. Задача 8**

Что не относится к императорским регалиям в Японии?

1	<input type="radio"/>	яшмовые бусы
2	<input type="radio"/>	меч
3	<input checked="" type="radio"/>	хризантема
4	<input type="radio"/>	зеркало

**9. Задача 9**

Какие два факта из ниже перечисленных относятся к истории государства Корё?

1	<input type="checkbox"/>	сведения о самых ранних этапах истории этого государства дошли до нас из мифов
2	<input checked="" type="checkbox"/>	основателем этого государства является Ван Гон
3	<input type="checkbox"/>	основателем этого государства считается государь Чумон
4	<input checked="" type="checkbox"/>	государство возникло на окраине Силла рассвет этого государства приходится на IV век

**10. Задача 10**

К неолитическим культурам долины реки Хуанхэ относятся:

1	<input type="checkbox"/>	Хэмуду
2	<input checked="" type="checkbox"/>	Баньпо
3	<input type="checkbox"/>	Шуандунь
4	<input type="checkbox"/>	Лянчжу
5	<input checked="" type="checkbox"/>	Эрлитоу

**11. Задача 11**

Какие из величайших памятников Древнего Востока не могли храниться в библиотеке царя Ашшурбанипала:

1	<input type="checkbox"/>	эпос о Гильгамеше;
2	<input checked="" type="checkbox"/>	эпос «Шах-наме»;
3	<input type="checkbox"/>	законы Хаммурапи;
4	<input type="checkbox"/>	миф «Энума Элиш»;
5	<input checked="" type="checkbox"/>	сказки «1000 и 1 ночь»

**12. Задача 12**

Какие из приведённых китайских литературных жанров являются чисто поэтическими?

1	<input type="checkbox"/>	Хань фу 漢賦
2	<input checked="" type="checkbox"/>	Юэ-фу гэ 樂府歌
3	<input checked="" type="checkbox"/>	Люй ши 律詩
4	<input type="checkbox"/>	Чуань-ци 傳奇
5	<input checked="" type="checkbox"/>	Сун цы 宋詞
6	<input type="checkbox"/>	Гун-ань 公案

**13. Задача 13**

Какие из указанных войн шли в 1980-х гг.?

1	<input type="checkbox"/>	Гражданская война в Алжире
2	<input checked="" type="checkbox"/>	Гражданская война в Ливане
3	<input checked="" type="checkbox"/>	Афганская война
4	<input type="checkbox"/>	Третья Арабо-израильская война
5	<input type="checkbox"/>	Война США с терроризмом
6	<input checked="" type="checkbox"/>	Ирано-иракская война

**14. Задача 14**

Отметьте древние царства, которые располагались на месте современного Ирана

1	<input type="checkbox"/>	Шумер
2	<input checked="" type="checkbox"/>	Мидия
3	<input checked="" type="checkbox"/>	Парфянское царство
4	<input type="checkbox"/>	Угарит
5	<input type="checkbox"/>	Лидия
6	<input checked="" type="checkbox"/>	Элам

**15. Задача 15**

Напишите, в какой хронологической последовательности Корея воевала с нижеперечисленными государствами?

1.
2.
3.
4.

Возможные ответы

1	Китай династии Тан
2	Монгольская империя
3	Ляо
4	Государство чжурчжэней Цзинь

Система оценивания

Ответ	Балл
<b>Ответ</b>	<b>Балл</b>
1- Китай династии Тан;3- Государство чжурчжэней Цзинь;4- Монгольская империя;2- Ляо	4

**16. Задача 16**

Соотнесите артефакт корейской культуры с названием государства, к которому он относится?

1	Дворец Кёнбоккун	А	<input type="text"/>
2	Летопись «Самгук саги»	Б	<input type="text"/>
3	Насыпные гробницы ванов	В	<input type="text"/>
4	Бронзовые кинжалы	Г	<input type="text"/>

Возможные ответы

1	Чосон
2	Силла
3	Корё
4	Древний Чосон

Система оценивания

Ответ	Балл
<b>Ответ</b>	<b>Балл</b>
1- Чосон;2- Корё;3- Силла;4- Древний Чосон	4

## 17. Задача 17

Соотнесите имена индуистских божеств и их функции

1	Индра	А	<input type="text"/>
2	Брахма	Б	<input type="text"/>
3	Шива	В	<input type="text"/>
4	Ганеша	Г	<input type="text"/>

Возможные ответы

1	Царь богов
2	Бог-создатель
3	Бог войны
4	Бог торговли и богатства

Система оценивания

Ответ	Балл
<b>Ответ</b>	<b>Балл</b>
1- Царь богов;2- Бог -Создатель;3- Бог войны;4- Бог торговли и богатства	4

## 18. Задача 18


Соотнесите изображения керамических изделий и названия стран Востока, к культурам которых они принадлежат.

А

Б

В

Г



Возможные ответы

- |   |        |
|---|--------|
| 1 | Египет |
| 2 | Китай  |
| 3 | Корея  |
| 4 | Япония |

Система оценивания

Ответ	Балл
1- Япония;2- Египет;3- Китай;4- Корея	4

**19. Задача 19**

Сопоставьте государства и научно-культурные центры

А) Сасанидский Иран -

Б) Аббасидский халифат -

В) Эмират Тимуридов -

Возможные ответы

1	Бейт ал-Хикма в Багдаде
2	Самарканд
3	Гундишапур

Система оценивания

Ответ	Балл
Ответ	Балл
1- Гундишапур;2- Бейт ал-Хикма в Багдаде;3- Самарканд	4

**20. Задача 20**

Соотнесите мифологических персонажей с событиями:

- Ньюва —
- Шэньнун —
- Фуси —
- Цанцзе —
- Чю —
- Юй —

Возможные ответы

1	борьба с потопом
2	изобретение сельскохозяйственных орудий
3	изобретение письменности
4	открытие триграмм
5	изобретение оружия
6	создание человечества



Система оценивания

Ответ	Балл
-------	------

Ответ	Балл
1- создание человечества;2- изобретение сельскохозяйственных орудий;3- открытие триграмм;4- изобретение письменности;5- изобретение оружия;6- борьба с потопом	4

**21. Задача 21**


Напишите, в какой стране было принято возводить подобные тотемы для защиты от злых духов?



**Ответ:** Корея

**22. Задача 22**

Как назывался китайский музыкальный инструмент, представленный на картинке?



**Ответ:** цинь


**23. Задача 23**

Какое название получил процесс соперничества между Британией и Российской империей за контроль над Средней Азией и Ираном?

**Ответ:** Большая игра

**24. Задача 24**

Какое событие показано на этой картине?



**Ответ:** битва при пирамидах

**25. Задача 25**

В эпоху Токугава князья делились на категории тодзама и фудай. Где произошло решающее сражение, в результате которого они были поделены на эти категории?

**Ответ:** Сэкига хара

**26. Задача 26**

Чем прославился представленный на фотографии человек?



**Ответ:** открытие Японии